



Waalwijk 2020

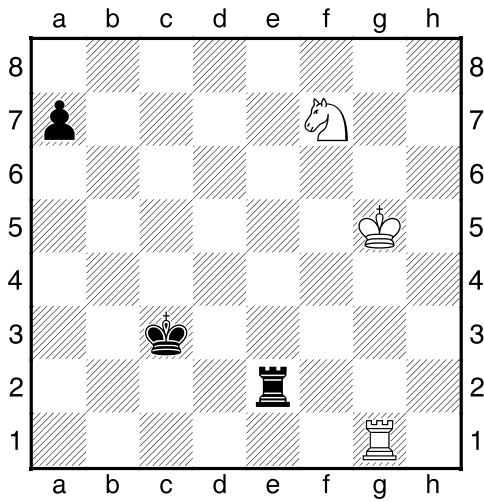
Activiteit van de stukken




#1. Marnik-Tommy (1)




#4. Cecilia-Daniël (5)




#2. Marnik-Tommy (1)



#5. Wouter-Ghilon (1)



#2. Daniël-Ghilon (2)



#6. Wouter-Tommy (8)

De vraag bij alle stellingen is:

hoe ga je verder? Wat is je plan? Welke zet doe je?

1. Hier staat wit gewonnen: een toren tegen twee pionnen.

2. Uit dezelfde partij. Wit heeft een paard tegen een pion.
Zwart (de latere kampioen Tommy Grooten) mist een kans.

3. Pion a2 staat aangevallen.
Daniël speelde 1.a4 Tb6 2.Tb1.
Dat kan beter. Hoe?

4. Zwart kan pion c3 of pion a2 slaan.
Welke kies je? Waarom?

5. Wit sloeg pion e6 met schaak.
Wat had hij beter kunnen doen?

6. Wit heeft een Toren en twee pionnen tegen Paard en Loper.
Hoe ga je verder?